




**ACTIVITĂȚI MATEMATICE**

Formează grupa delfinilor și grupa peștișorilor.



**ACTIVITĂȚI MATEMATICE**

Formează grupe de obiecte după formă.



**ACTIVITĂȚI MATEMATICE**

Formează grupe de obiecte după formă.





## ACTIVITĂȚI MATEMATICE

Șosetele trebuie să fie perechi. Continuă și tu!

